

Disciplina:	MATEMÁTICA II	Nº Questões:	40
Duração:	90 minutos	Alternativas por questão:	5
Ano:	2025		

**INSTRUÇÕES**

- Preencha as suas respostas na FOLHA DE RESPOSTAS que lhe foi fornecida no início desta prova. Não será aceite qualquer outra folha adicional, incluindo este enunciado.
- Na FOLHA DE RESPOSTAS, assinale a letra que corresponde à alternativa escolhida pintando completamente o interior do círculo por cima da letra. Por exemplo, pinte assim ●.
- A máquina de leitura óptica anula todas as questões com mais de uma resposta e/ou com borrões. Para evitar isto, preencha primeiro à lápis HB, e só depois, quando tiver certeza das respostas, a esferográfica (de cor azul ou preta).

1.	O módulo de um número: A. É igual ao próprio número D. É igual ao próprio número quando é negativo.	B. É igual ao seu simétrico. E. É sempre positivo ou igual a zero.	C. É sempre positivo.
2.	Dois números distam entre si 7 unidades, sendo um deles 4. Simbolicamente é equivalente a:		
	A. $7-4$	B. $ 7-4 $	C. $4-7$
	D. $ x-4 =7$	E. $ x-7 =4$	
3.	$ x  \leq 3$ se:		
	A. $-3 < x < 3$	B. $-3 < x \leq 3$	C. $-3 \leq x < 3$
	D. $-3 \leq x \leq 3$	E. $x \leq -3 \vee x \geq 3$	
4.	$ 1-\sqrt{3} $ é equivalente à:		
	A. $1-\sqrt{3}$	B. $1+\sqrt{3}$	C. $-1+\sqrt{3}$
	D. $-1-\sqrt{3}$	E. $\sqrt{3}$	
5.	A soma das soluções da equação $ x-5 =3$ é:		
	A. 2	B. 8	C. -2
	D. -8	E. 10	
6.	A solução da inequação $ x-5  < 3$ é:		
	A. $2 \leq x \leq 8$	B. $2 < x < 8$	C. $2 < x \leq 8$
	D. $2 \leq x < 8$	E. $x < 8$	
7.	$ 4-x $ com $x > 4$ é equivalente à:		
	A. $4-x$	B. $4+x$	C. $x-4$
	D. $2-\sqrt{x}$	E. $2+\sqrt{x}$	
8.	Simplificando a expressão $\frac{ 2-x }{2-x}$ obtém-se:		
	A. 1	B. -1	C. 1 para $x > 2$ e -1 para $x < 2$
	D. -1 para $x > 2$ e 1 para $x < 2$	E. Nenhuma das alternativas anteriores	
9.	É falsa a afirmação:		
	A. $A_3^5 = \frac{5!}{2!}$	B. $C_3^5 = \frac{5!}{3!+2!}$	C. $P_5 = 5!$
	D. $C_3^5 = \frac{5!}{3!2!}$	E. $5! = 5 \times 4 \times 3 \times 2 \times 1$	
10.	Simplificando $\frac{7!}{8!(n+2) \times 8!}$ obtém-se:		
	A. $\frac{1}{8(n+2)}$	B. $\frac{7!}{8(n+2)}$	C. $\frac{7!}{8!+16!}$
	D. $\frac{7!}{24!n}$	E. $\frac{1}{8!(n+2)}$	
11.	Quantos números com 3 algarismos diferentes podem escrever-se com os algarismos 1, 2, 3, 4, 5, 6, 7, 8 e 9?		
	A. 3024	B. 504	C. 72
	D. 1024	E. 514	
12.	A equipe de voleibol da escola XY dispõe de 8 jogadores que podem jogar em qualquer posição. O número de alternativas que o treinador tem para formar a sua equipe de 6 jogadores em campo é:		
	A. 28	B. 56	C. 24
	D. 32	E. 10	
13.	O número de possibilidades que cinco pessoas têm de se sentar à uma mesa de cinco lugares é:		
	A. 52	B. 25	C. 120
	D. 720	E. 50	

14. O produto das soluções da equação  $\frac{(n-1)!}{(n-3)!} = 0$  é igual a 2. As soluções são:  
 A.  $n = -1 \vee n = -2$     B.  $n = -1 \vee n = 2$     C.  $n = 1 \vee n = -2$     D.  $n = 1 \vee n = 2$     E.  $n = 3 \vee n = 2$

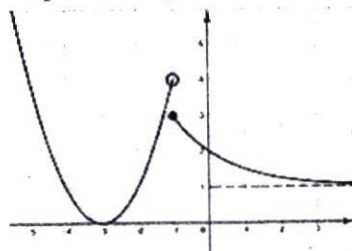
Considere a experiência aleatória que consiste no lançamento de um dado equilibrado. Responda às Questões 15 a 18

15. O cardinal do espaço amostral  $\Omega$  é:  
 A. 2    B. 5    C. 6    D. 7    E. 4
16. "Sair 7" é um acontecimento:  
 A. Certo    B. Impossível    C. Contrário  
 D. Provável    E. Nenhuma das alternativas
17. Considerando os acontecimentos A: "Sair um número ímpar" e B: "Sair um múltiplo de 3" tem-se:  
 A.  $A \cap B = \{3\}$     B.  $B = \{1, 3, 6\}$     C.  $A \cup B = \{1, 2, 3, 5, 6\}$   
 D.  $\bar{B} = \{1, 2, 3, 4, 5\}$     E. Nenhuma das alternativas
18. A probabilidade de sair um número par no lançamento de um dado é:  
 A.  $\frac{1}{6}$     B.  $\frac{1}{3}$     C.  $\frac{5}{6}$     D.  $\frac{2}{3}$     E.  $\frac{1}{2}$
19. Um saco contém bolas do mesmo tamanho, mas com cores diferentes: três azuis, quatro vermelhas e uma amarela. Retira-se ao acaso uma bola. A probabilidade da bola retirada ser azul é:  
 A.  $\frac{3}{8}$     B.  $\frac{1}{2}$     C.  $\frac{1}{8}$     D.  $\frac{2}{3}$     E.  $\frac{1}{3}$
20. O termo geral de sucessão  $\frac{4}{3}, \frac{9}{5}, \frac{16}{7}, \frac{25}{9}, \frac{36}{11}, \dots$  é:  
 A.  $\frac{n^2}{2n-1}$     B.  $\frac{n^2}{n+2}$     C.  $\frac{(n+1)^2}{2n-1}$     D.  $\frac{n^2}{2n+1}$     E.  $\frac{(n+1)^2}{2n+1}$

Considere a sucessão  $b_n = \frac{2-n}{n+1}$  e responda às Questões 21 a 24.

21.  $b_{n+1} - b_n$  é igual à:  
 A.  $\frac{-3-2n}{(n+1)(n+2)}$     B.  $\frac{5}{(n+1)(n+2)}$     C.  $\frac{-3}{(n+1)(n+2)}$     D.  $\frac{2n-1}{(n+1)(n+2)}$     E.  $\frac{2n+7}{(n+1)(n+2)}$
22.  $\lim b_n$  é igual à:  
 A. -1    B. 1    C. 0    D. 2    E.  $+\infty$
23. O sexto termo de uma progressão geométrica, cujo primeiro termo é 8, é igual a  $\frac{1}{4}$ . A razão da progressão é:  
 A.  $\frac{1}{3}$     B. 2    C.  $\frac{1}{2}$     D. 3    E.  $\frac{1}{4}$
24. Numa progressão aritmética o décimo segundo termo é -16 e o quinto 12. O primeiro termo e a razão são respectivamente:  
 A.  $a_1 = -4, d = 4$     B.  $a_1 = -4, d = 28$     C.  $a_1 = -10, d = -4$   
 D.  $a_1 = 28, d = -4$     E.  $a_1 = -3, d = 24$

Com base no gráfico da função  $y = f(x)$  abaixo responda às Questões 25 e 26.

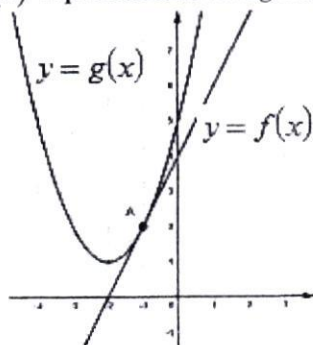


25. É falsa a afirmação:  
 A.  $\lim_{x \rightarrow -1^-} f(x) = 4$     B.  $\lim_{x \rightarrow -1^+} f(x) = 3$     C.  $f(-1) = 3$   
 D.  $\lim_{x \rightarrow -\infty} f(x) = 5$     E.  $\lim_{x \rightarrow +\infty} f(x) = 1$

26. Sobre a função  $y = f(x)$  pode-se afirmar que:

- A. Tem um salto de segunda espécie em  $x = -1$ .  
 B. Os limites laterais em  $x = -1$  não são reais.  
 C. Tem limite em  $x = -1$ .  
 D.  $\lim_{x \rightarrow -1^-} f(x) = \lim_{x \rightarrow -1^+} f(x)$   
 E.  $\lim_{x \rightarrow +\infty} f(x) = 1$  e  $\lim_{x \rightarrow -\infty} f(x) = +\infty$ .

Dados os gráficos das funções  $y = f(x)$  e  $y = g(x)$  representados na figura, responda da Questão 27 à 31.



27.  $f(-1)$  é igual a:

- A. -2                      B. 2                      C. 4                      D. -1                      E. 0

28. O coeficiente angular da recta é:

- A.  $a = 2$                       B.  $a = -2$                       C.  $a = \frac{1}{2}$                       D.  $a = -\frac{1}{2}$                       E.  $a = 4$

29.  $g'(-1)$  é igual a:

- A. 4                      B. -2                      C. 2                      D. 0                      E. 1

30. O vértice da função  $y = g(x)$  é:

- A.  $V(2,1)$                       B.  $V(2,-1)$                       C.  $V(-1,2)$                       D.  $V(-2,1)$                       E.  $V(1,2)$

31. A expressão analítica de  $y = g(x)$  é:

- A.  $y = (x-1)^2 + 2$                       B.  $y = (x+2)^2 + 1$                       C.  $y = (x-2)^2 + 1$   
 D.  $y = (x+2)^2 - 1$                       E.  $y = (x+1)^2 - 2$

32. A derivada de  $y = (x^3 - 5x^2 + 4)^2$  é:

- A.  $y' = 2(x^3 - 5x^2 + 4)^2(3x^2 - 10x)$                       B.  $y' = 2(3x^2 - 10x)$                       C.  $y' = 2(x^3 - 5x^2 + 4)(3x^2 - 10x)$   
 D.  $y' = 2(x^3 - 5x^2 + 4)^2(3x^2 - 10x + 4)$                       E. Nenhuma das alternativas

Considere a função  $y = -x^3 + 27x$ . Responda às Questões 33 a 38

33. Os zeros da função são:

- A.  $x = 0 \vee x = \sqrt{27}$                       B.  $x = -\sqrt{27} \vee x = \sqrt{27}$                       C.  $x = 0 \vee x = -\sqrt{27}$   
 D.  $x = 0 \vee x = -\sqrt{27} \vee x = \sqrt{27}$                       E. Nenhuma das alternativas

34. Os extremos da função são:

- A.  $x_{\max} = 3 \vee x_{\min} = -3$                       B.  $x_{\max} = \sqrt{27} \vee x_{\min} = -\sqrt{27}$                       C.  $x_{\max} = -\sqrt{27} \vee x_{\min} = \sqrt{27}$   
 D.  $x_{\max} = -3 \vee x_{\min} = 3$                       E.  $x_{\max} = 0 \vee x_{\min} = 3$

35. A função cresce nos intervalos:

- A.  $]-\infty, -3[ \cup ]3, +\infty[$                       B.  $]-\infty, -\sqrt{27}[ \cup ]\sqrt{27}, +\infty[$                       C.  $[-3, 3]$   
 D.  $]-\sqrt{27}, \sqrt{27}[$                       E.  $]3, 3[$

36. A derivada da função é negativa nos intervalos:

- A.  $]-\infty, -3[ \cup ]3, +\infty[$                       B.  $]-\infty, -\sqrt{27}[ \cup ]\sqrt{27}, +\infty[$                       C.  $[-3, 3]$   
 D.  $]-\sqrt{27}, \sqrt{27}[$                       E.  $]3, 3[$

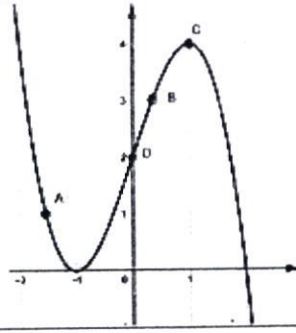
37. A função tem a concavidade voltada para cima nos intervalos:

- A.  $]-\infty, 0]$                       B.  $]-\infty, 0[$                       C.  $[0, +\infty[$                       D.  $]0, +\infty[$                       E.  $]-\infty, 3[$

38. O ponto de inflexão é:

- A.  $(0, 3)$                       B.  $(0, -3)$                       C.  $(0, 0)$                       D.  $(-3, 0)$                       E.  $(3, 0)$

Em relação ao gráfico responda às Questões 39 a 40.



39. É verdadeira a afirmação:

- A. O coeficiente angular da recta tangente à curva no ponto A é positivo.
- B. No ponto C a recta tangente à curva é paralela ao eixo das ordenadas.
- C. O coeficiente angular da recta tangente à curva no ponto C é zero.
- D. A segunda derivada no ponto D é positiva
- E. A recta tangente à curva no ponto B é decrescente

40. É falsa a afirmação:

- A. A função tem três raízes reais.
- B. A ordenada na origem da função é  $y = 2$ .
- C. No intervalo  $]1, +\infty[$  a primeira derivada da função é negativa.
- D. A função admite um extremo máximo em  $x = -1$ .
- E. D é um ponto de inflexão.

FIM!

## BIBLIOTECA EDUSKILLS

Encontre Aqui:

- Livros Escolares - (1ª a 12ª Classe);
- Exames Escolares - (1ª a 12ª Classe)
- Exames de Admissão (Todas Universidades)
- Exames Resolvidos
- Trabalhos feitos.

Acesse mais Conteúdos agora

[www.eduskills.co.mz](http://www.eduskills.co.mz)

ou

**CLIQUE AQUI**

Qual livro ou exame procura? 861003535

